



Naam:

Het meten van de stallen en weides.

Vul de tabel juist in:

- De lengte van de stal is 30 m
- De afstand tussen twee weides is 75.5 m
- De lengte van de straat waar boer Steven woont is 156 m

.	.	.	m	.	.	.

Reken jij even uit?

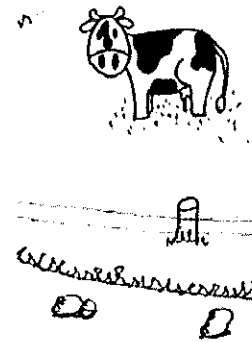
$$2 \text{ dam} + \dots \text{ m} = 1 \text{ hm}$$

$$0.8 \text{ km} + \dots \text{ m} = 1 \text{ km}$$

$$\text{De helft van } 1 \text{ km is } \dots \text{ m}$$

$$5 \text{ dm} + \dots \text{ cm} = 1 \text{ m}$$

$$15 \text{ m} + \dots \text{ m} = 1 \text{ hm}$$



Los jij dit even op?

De omtrek van boer Steven zijn nieuwe wei is 400 m.
Hoeveel rondjes moet hij afleggen om 1 km te lopen?

Kan jij dit oplossen?

$$1 \text{ m} = 18 \text{ dm} - \dots \text{ dm}$$

$$1/2 \text{ m} = 8 \text{ dm} - \dots \text{ cm}$$

$$0.4 \text{ m} = 1 \text{ m} - \dots \text{ dm}$$

$$1 \text{ km} = 1.5 \text{ km} - \dots \text{ m}$$

$$16 \text{ cm} = 0.5 \text{ m} - \dots \text{ cm}$$



Het meten van de stallen en weides.

Vul de tabel juist in:

- De lengte van de stal is 30 m
- De afstand tussen twee weides is 75.5 m
- De lengte van de straat waar boer Steven woont is 156 m

km	hm	dam	m	dm	cm	mm
		3	0			
		7	5	5		
	1	5	6			

Reken jij even uit?

$$2 \text{ dam} + 80 \text{ m} = 1 \text{ hm}$$

$$0.8 \text{ km} + 200 \text{ m} = 1 \text{ km}$$

$$\text{De helft van } 1 \text{ km is } 500 \text{ m}$$

$$5 \text{ dm} + 50 \text{ cm} = 1 \text{ m}$$

$$15 \text{ m} + 85 \text{ m} = 1 \text{ hm}$$

Los jij dit even op?

De omtrek van boer Steven zijn nieuwe wei is 400 m.
Hoeveel rondjes moet hij met zijn tractor rijden om 1 km af te leggen?

2.5 rondjes

Kan jij dit oplossen?


$$1 \text{ m} = 18 \text{ dm} - 8 \text{ dm}$$

$$1/2 \text{ m} = 8 \text{ dm} - 30 \text{ cm}$$

$$0.4 \text{ m} = 1 \text{ m} - 6 \text{ dm}$$

$$1 \text{ km} = 1.5 \text{ km} - 500 \text{ m}$$

$$16 \text{ cm} = 0.5 \text{ m} - 34 \text{ cm}$$





Naam:

Breuken en ander gespuis.

Vul aan:

$1/4$ van 200 is...

$1/5$ van 150 is...

$1/7$ van 140 is...

$1/9$ van 270 is...

$1/6$ van 900 is...

$3/4$ van 200 is...

$2/5$ van 150 is...

$5/7$ van 140 is...

$4/9$ van 270 is...

$5/9$ van 900 is...

Hoe zit de stal verdeling in elkaar van boer Steven?

$1/2$ van 600 = ...

$1/4$ van 600 = ...



$2/5$ van 600 = ...

$6/10$ van 600 = ...




$2/3$ van 600 = ...

$5/6$ van 600 = ...

Kleur telkens $1/4$



Kleur telkens $3/5$





Breuken en ander gespuis.

Vul aan:

$1/4$ van 200 is 50

$1/5$ van 150 is 30

$1/7$ van 140 is 20

$1/9$ van 270 is 30

$1/6$ van 900 is 150

$3/4$ van 200 is 150

$2/5$ van 150 is 60

$5/7$ van 140 is 100

$4/9$ van 270 is 120

$5/6$ van 900 is 750

Hoe zit de stal verdeling in elkaar van boer Steven?

$1/2$ van 600 = 300

$1/4$ van 600 = 150



$2/5$ van 600 = 240

$6/10$ van 600 = 360


$2/3$ van 600 = 400

$5/6$ van 600 = 500

Kleur telkens $1/4$



Kleur telkens $3/5$



Vleeswoordzoeker

Naam:

Voornaam:

Datum: .../.../...



Woordzoeker

Zoek 10 woorden in deze woordzoeker en schrijf ze bij de juiste betekenis.

1. De identiteitskaart van het dier dat zegt waar het vandaan komt, waar het opgroeide, waar het werd geslacht...

2. Het hangt vast als een ooring aan het oor van het dier. Hierop staat een nummer, dat nummer komt overeen met zijn paspoort.

3. Deze boeren kweken dieren.

4. Opslagplaats voor voeder. De oogsten uit de lente en de zomer worden hier bewaard om te gebruiken in de winter.

5. Vlees op ons bord moet gezond zijn. Dit betekent dus dat de koeien niet onnodig antibiotica krijgen en het voeder bestaat uit natuurlijke producten.

6. Het dier zonder zijn vacht en ingewanden.

7. De boer moet goed voor zijn dieren zorgen. Ze moeten ruime en goed verluchte stallen hebben en comfortabel kunnen liggen en zitten.

8. Een stukje vlees afwisselen met groenten, aardappelen, fruit en ook vis dat is een

9. Dit vee kweekt de boer voor het vlees.

10. Dit vee kweekt de boer voor de melk.

Q G D V Q J F Q K E R P D F K N Q G S J
O E I V H S I L O F E P L T C E S J W K
X X E O T R G T C X J Y L A Q I C O X B
D O R E W F Z D F B T U L E H Q V D Y C
T O E D T G Z B Y V F Y I P R C R N D U
Y R N S R Z B A W E I N L Z H W L R I B
B M W E C O L G G E C U W C Q S Q E P E
U E E L Y T B B S H I G U E W L A Y G H
Y R L V V S F E S O V U A D K A P W S O
S K Z E Q T A I U U C A R I W C L S Z M
B U I I G G R U B D W W B V B H D A N E
G P J L L E Z M Z E D E P V F T Y M K L
L V N I U C A S E R A T F E G P N D K K
U R N G Y A C Q K S D C N X N A H B J K
E C U H Y S S I Z Y K A R K A S V W S O
P F L E X I V O O R H I V Z E P F T H E
K R A I J K T W B V L E E S K O E K A I
B C Z D Q R S A A O S M Y B K O N H A E
M O M K I T N S V E E C W C Z R W W W N
F B V K X U W V H B F U I O R T F J W Q

Vleeswoordzoeker

Naam:
Voornaam:
Datum: .../.../...



Woordzoeker

Zoek 10 woorden in deze woordzoeker en schrijf ze bij de juiste betekenis.

1. De identiteitskaart van het dier dat zegt waar het vandaan komt, waar het opgroeide, waar het werd geslacht...

slachtpaspoort

2. Het hangt vast als een oorring aan het oor van het dier. Hierop staat een nummer, dat nummer komt overeen met zijn paspoort.

oormerk

3. Deze boeren kweken dieren.

veehouders

4. Opslagplaats voor voeder. De oogsten uit de lente en de zomer worden hier bewaard om te gebruiken in de winter.

silo

5. Vlees op ons bord moet gezond zijn. Dit betekent dus dat de koeien niet onnodig antibiotica krijgen en het voeder bestaat uit natuurlijke producten.

voedselveiligheid

6. Het dier zonder zijn vacht en ingewanden.

karkas

7. De boer moet goed voor zijn dieren zorgen. Ze moeten ruime en goed verluchte stallen hebben en comfortabel kunnen liggen en zitten.

dierenwelzijn

8. Een stukje vlees afwisselen met groenten, aardappelen, fruit en ook vis dat is een

flexivoor

9. Dit vee kweekt de boer voor het vlees.

vleesvee

10. Dit vee kweekt de boer voor de melk.

melkvee

Q G D V Q J F Q K E R P D F K N Q G S J
O E I V H S I L O F E P L T C E S J W K
X X E O T R G T C X J Y L A Q I C O X B
D O R E W F Z D F B T U L E H Q V D Y C
T O E D T G Z B Y V F Y I P R C R N D U
Y R N S R Z B A W E I N L Z H W L R I B
B M W E C O L G G E C U W C Q S Q E P E
U E E L Y T B B S H I G U E W L A Y G H
Y R L V V S F E S O V U A D K A P W S O
S K Z E Q T A I U U C A R I W C L S Z M
B U I I G G R U B D W W B V B H D A N E
G P J L L E Z M Z E D E P V F T Y M K L
L V N I U C A S E R A T F E G P N D K K
U R N G Y A C Q K S D C N X N A H B J K
E C U H Y S S I Z Y K A R K A S V W S O
P F L E X I V O O R H I V Z E P F T H E
K R A I J K T W B V L E E S K O E K A I
B C Z D Q R S A A O S M Y B K O N H A E
M O M K I T N S V E E C W C Z R W W W N
F B V K X U W V H B F U I O R T F J W Q